



Date :

- 5 Tirobot achète une chemise à 34 €. Il donne un billet de 50 € à la caisse.
Combien d'argent le caissier va-t-il rendre à Tirobot ?



Ta réponse

Handwriting practice area for the answer to question 5, consisting of a grid of lines.

Opération(s) posée(s)

Handwriting practice area for the operation(s) for question 5, consisting of a grid of lines.

- 6 La maitresse de Tirobot a 23 élèves dans sa classe. Elle a acheté 4 surligneurs pour chaque élève.
Combien de surligneurs la maitresse a-t-elle achetés ?



Ta réponse

Handwriting practice area for the answer to question 6, consisting of a grid of lines.

Opération(s) posée(s)

Handwriting practice area for the operation(s) for question 6, consisting of a grid of lines.



Date :

9



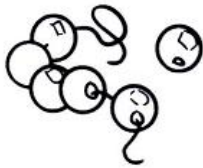


Les CE2 ont emprunté 38 livres à la médiathèque.
Les CM1 en ont emprunté 45 et les CM2 56.
Combien ont-ils emprunté de livres en tout ?

Ta réponse



Opération(s) posée(s)



10

Pour son anniversaire, Robotine a reçu 5 colliers de perles de ses amies. Chaque collier est fait de 112 perles.

Combien de perles Robotine a-t-elle en tout ?

Ta réponse



Opération(s) posée(s)





Date :


- 11** Le père de Robotine a acheté un scooter à 1 259 € et un casque à 165 €.
Combien doit-il payer en tout ?

Ta réponse



Opération(s) posée(s)

12



À la pizzeria, la note de Tirobot et Robotine s'élève à 42 €. Ils décident de partager équitablement la note.

Combien chacun devra-t-il payer ?

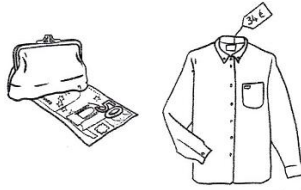
Ta réponse

Opération(s) posée(s)



Date :

- 5 - Tirobot achète une chemise à 34 €. Il donne un billet de 50 € à la caisse. **Combien d'argent le caissier va-t-il rendre à Tirobot ?**



Le caissier va rendre
16 € à Tirobot.

$$\begin{array}{r} 50 \\ - 34 \\ \hline 16 \end{array}$$

- 6 - La maîtresse de Tirobot a 23 élèves dans sa classe. Elle a acheté 4 surligneurs pour chaque élève. **Combien de surligneurs la maîtresse a-t-elle achetés ?**



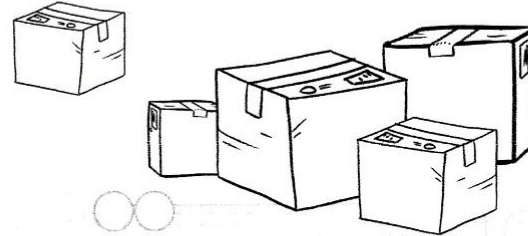
La maîtresse achète
92 surligneurs pour sa
classe.

$$\begin{array}{r} 23 \\ \times 4 \\ \hline 92 \end{array}$$



Date :

- 7 - Un livreur dépose 252 colis chez son premier client, 153 chez un deuxième et enfin 167 colis chez le dernier. **Combien le livreur a-t-il déposé de colis ?**



Le livreur a déposé
572 colis en tout.

$$\begin{array}{r} 252 \\ + 153 \\ + 167 \\ \hline 572 \end{array}$$

- 8 - Tout content, Tirobot ramène 34 nouvelles pièces de collection à la maison. Maintenant, il en a 112. **Combien de pièces Tirobot avait-il avant ?**



Tirobot avait 78 pièces
avant.

$$\begin{array}{r} 112 \\ - 34 \\ \hline 78 \end{array}$$



Date :


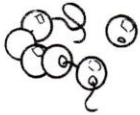
9



Les CE2 ont emprunté 38 livres à la médiathèque. Les CM1 en ont emprunté 45 et les CM2 56. Combien ont-ils emprunté de livres en tout ?

Ils ont emprunté 139 livres en tout.

$$\begin{array}{r} ① \\ 56 \\ + 45 \\ + 38 \\ \hline 139 \end{array}$$



10 Pour son anniversaire, Robotine a reçu 5 colliers de perles de ses amies. Chaque collier est fait de 112 perles. Combien de perles Robotine a-t-elle en tout ?

Robotine a 560 perles en tout.

$$\begin{array}{r} 112 \text{ ①} \\ \times 5 \\ \hline 560 \end{array}$$

6



Date :


11 Le père de Robotine a acheté un scooter à 1 259 € et un casque à 165 €. Combien doit-il payer en tout ?

Il doit payer 1424 € en tout.



$$\begin{array}{r} ① \text{ ①} \\ 1259 \\ + 165 \\ \hline 1424 \end{array}$$

12



À la pizzeria, la note de Tirobot et Robotine s'élève à 42 €. Ils décident de partager équitablement la note. Combien chacun devra-t-il payer ?

Chacun devra payer 21 €.

$$\begin{array}{r|l} 42 & 2 \\ 02 & 21 \\ 0 & \end{array}$$