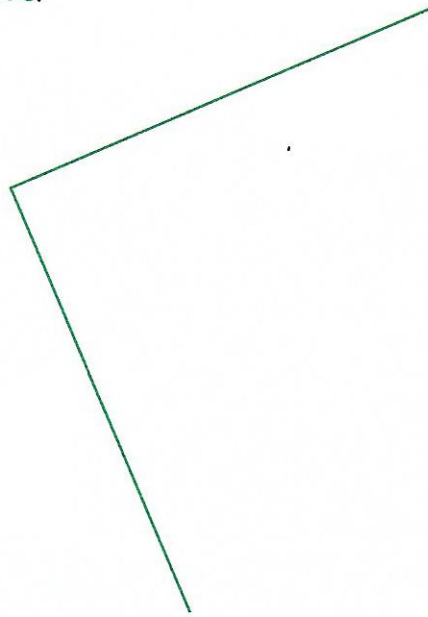
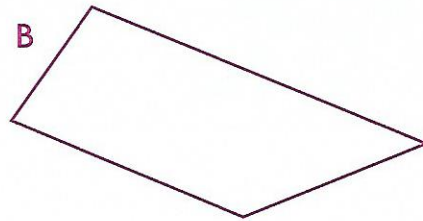
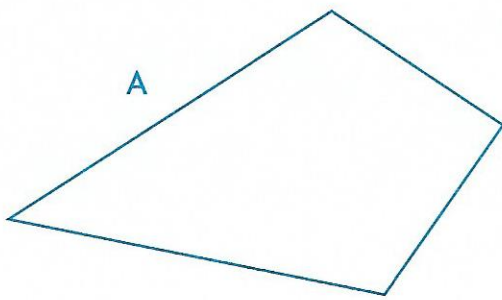


3 Termine la construction du carré.  
Deux côtés sont déjà tracés.



4 Trace si c'est possible le ou les axes de symétrie de chaque figure.



5 Trace si c'est possible le ou les axes de symétrie de chaque figure.

