

	ACTIVITÉS	COLLECTIF	INDIVIDUEL
Calcul mental	Compléments à une dizaine supérieure	✓	
Réviser	Longueur en m et cm		1 2
Apprendre	Horaires et durées en heures et minutes	✓	3 4

Date : _____

Comparer des longueurs en m et en cm

1 Barre les réponses fausses.

• La longueur d'une mouche est de :

1 cm

1 m

• La hauteur d'une porte est de :

2 dm

2 m

• La longueur d'une gomme est de :

3 cm

3 m


• La hauteur d'une table est de :

70 cm

70 m

2 Le professeur d'Alex a mesuré 3 élèves :

	taille
Zoé	126 cm
Lisa	1 m 32 cm
Nanie	1 m 18 cm



• Range ces élèves du plus petit au plus grand :

• Nanie a une poupée qui mesure 80 cm. Elle dit que sa poupée est plus grande qu'elle.

Est-ce vrai ?


Pourquoi ?

• Alex mesure 2 cm de plus que Lisa. Combien mesure Alex ?

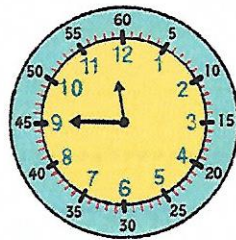
DICO 27

Lire l'heure et calculer des durées


3 Complète.



Il est





Il est



Il est

4 Dans l'école de Lisa, la récréation commence à 10 heures 15 minutes. Elle finit à 10 heures 30 minutes. Combien de temps dure la récréation ?



Pour t'aider à répondre, dessine la grande aiguille sur la deuxième horloge.