

Date : _____

Je fais le bilan

1 Écris les nombres dictés.

a b c d e f

2 Écris les résultats des calculs dictés.

a b c d e f

3 Complète.

$9 + 3 = \dots\dots$

$5 + 6 = \dots\dots$

$7 + 7 = \dots\dots$


$2 + 8 = \dots\dots$

$6 + 8 = \dots\dots$






$5 + 9 = \dots\dots$

4 Complète.


- Je pars de 8, j'avance de 4, j'arrive à
- Je pars de 10, je recule de 3, j'arrive à
- Pour aller de 5 à 9, il faut avancer de
- Pour aller de 10 à 1, il faut reculer de



5 Écris ce qu'affiche le compteur de Gribouille si on ajoute 1 à chaque fois.



6 Complète.



7 Complète.

- 2 dizaines = unités
- 1 dizaine et 16 unités = unités
- 1 dizaine et 10 unités = unités
- 2 dizaines et 11 unités = unités