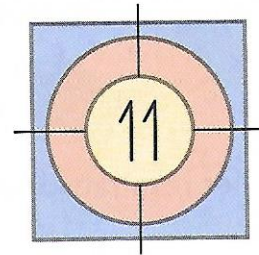


Je consolide mes connaissances

1 Colorie les cartes que chacun doit choisir pour atteindre la cible.




2 Complète de différentes façons.

Tu ne peux utiliser que des nombres plus petits que 10.

12 = + 12 = + 12 = + 12 = +


14 = + 14 = + 14 = + 14 = +

3 Zoé avance plusieurs fois son pion de 5 cases. Elle ne doit pas dépasser 17. Sur quelle case son pion va-t-il s'arrêter? Complète.



Son pion va s'arrêter sur la case

4 Arthur recule plusieurs fois son pion de 3 cases. Il ne doit pas dépasser 3. Sur quelle case son pion va-t-il s'arrêter? Complète.



Son pion va s'arrêter sur la case

5 Complète la carte que Gribouille doit utiliser pour faire passer le pion de la case 14 à la case 9. Barre celle qui n'est pas utile.

