

# Correction-Le cercle-7mai-CE2

PARCOURS 2



## JE M'ENTRAINE

Prénom .....

Date .....

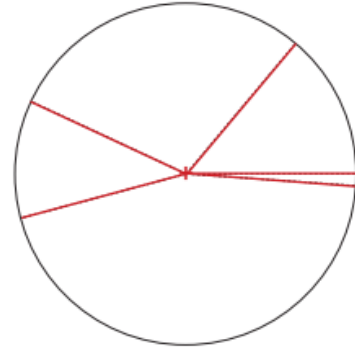
IDENTIFIER ET TRACER DES CERCLES

### CONNAITRE LE VOCABULAIRE DU CERCLE

① **Observe** ce cercle et **réponds** aux questions.

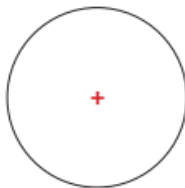
- ① Trace une croix sur le centre.
- ② Repasse les rayons en rouge.
- ③ Combien les rayons mesurent-ils ?

Ils mesurent 3 cm

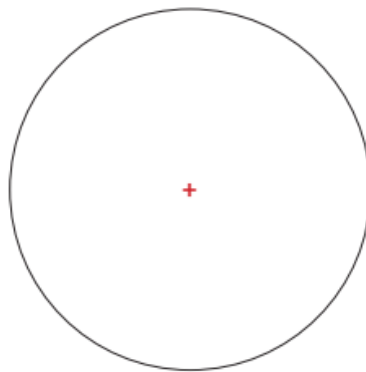


② **Trouve** la taille de chaque rayon.

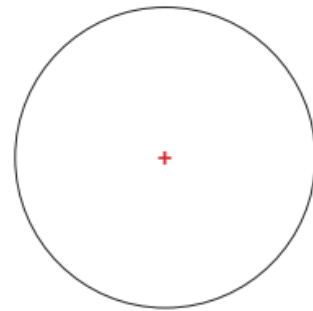
○



1,5 cm



3 cm

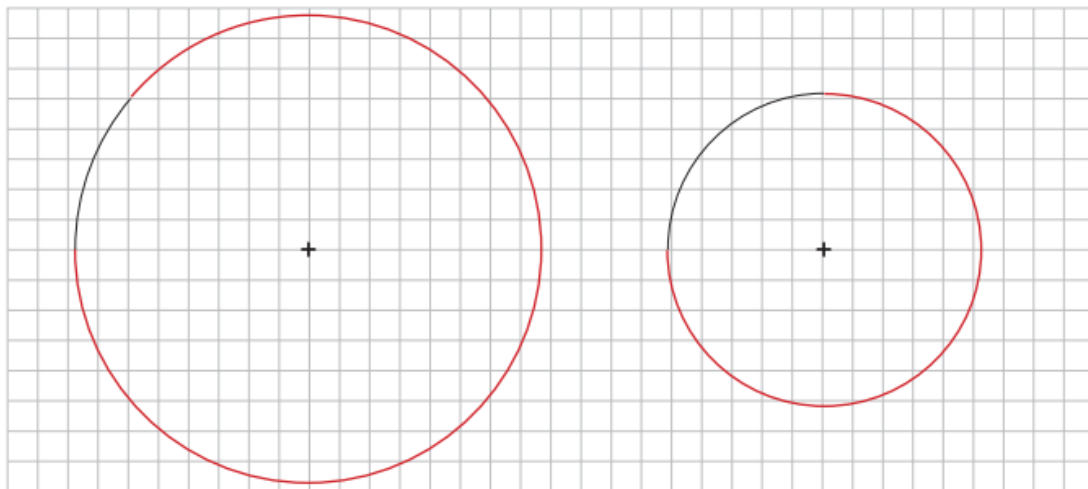


2,5 cm

### TRACER UN CERCLE

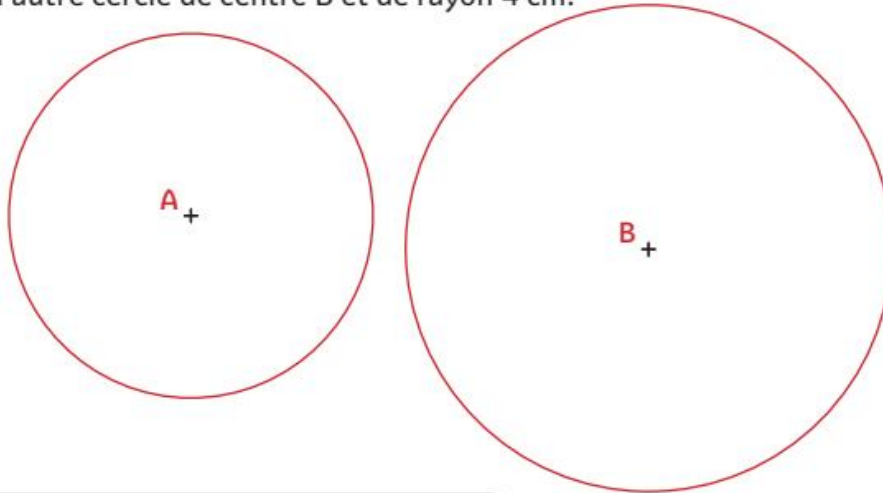
○

③ **Termine** la construction des cercles.




○

- ④ **Construis** deux cercles : un de centre A et de rayon 3 cm et un autre cercle de centre B et de rayon 4 cm.



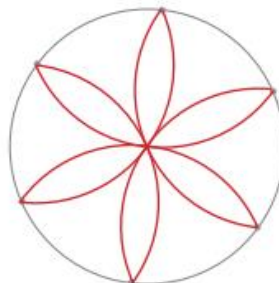
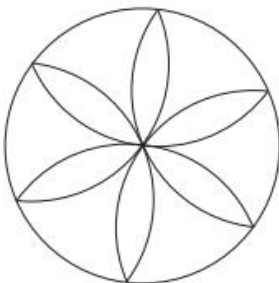
### LES MATHS DANS LA VIE

- ⑤ **Trace** les roues de ce vélo. Les rayons mesurent 1,5 cm.



### DÉFI

- ⑥ **Reproduis** cette rosace.



Parfois, il est plus facile de tourner la feuille que le compas!

