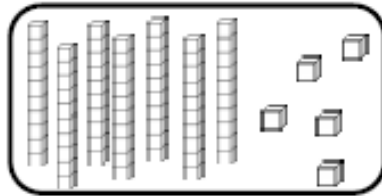


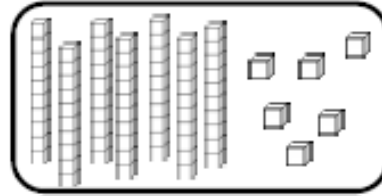
# Fiche n° 1 : Les nombres de 0 à 80

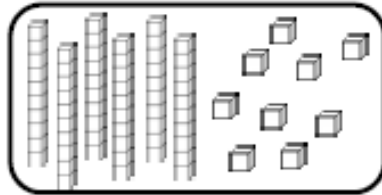
## Nombres et quantités : de 0 à 80

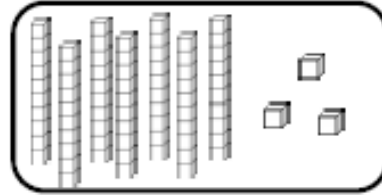


1 Complète avec le bon nombre :

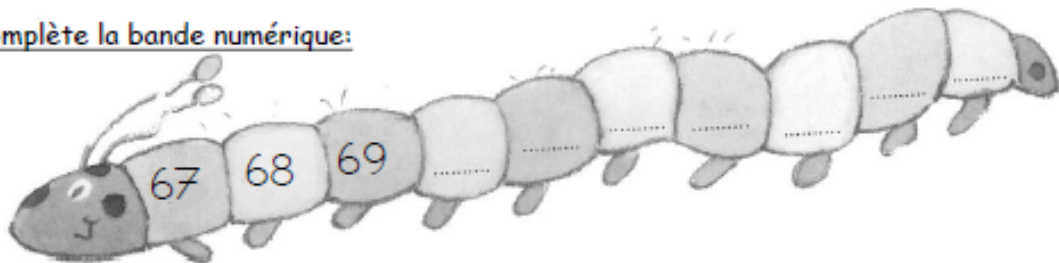









2 Complète la bande numérique:



## Nombres et quantités : de 0 à 80

1 Complète les cases grises du tableau des nombres

	31								
						46			
		52							
60					65				
									79

2 Colorie les pièces et billets correspondants à la somme dans la tirelire :

