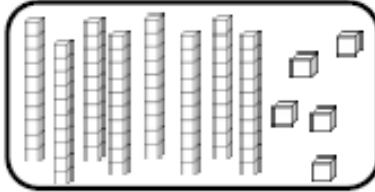


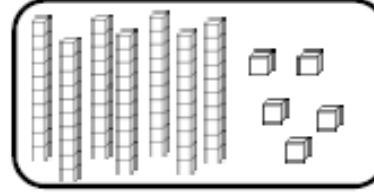
Fiche n° 1 : Les nombres de 0 à 90

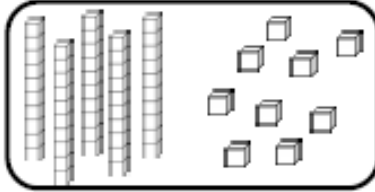
Nombres et quantités : de 0 à 90



1 Complète avec le bon nombre :

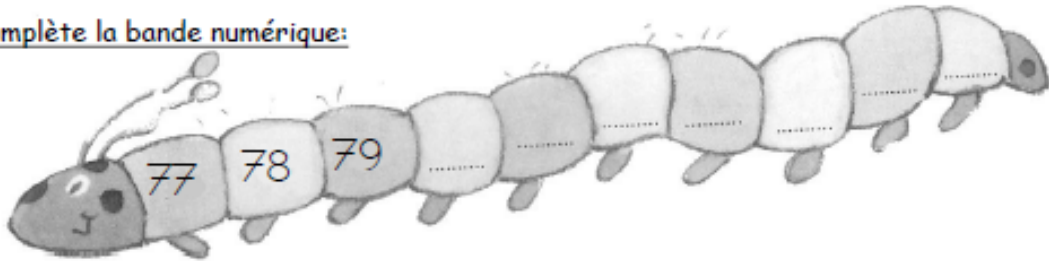








2 Complète la bande numérique:



Nombres et quantités : de 0 à 90

1 Complète les cases grises du tableau des nombres

	41								
						56			
		62							
70					75				
									89

2 Colorie les pièces et billets correspondants à la somme dans la tirelire :

