


16



Date :

- 31** Sur la planète Robota, il y a 2 500 400 habitants.  
Un peu plus loin, sur la planète Zogora,  
il y a 4 621 300 habitants.

**Combien y a-t-il d'habitants au total  
sur ces deux planètes ?**



Ta réponse



Opération(s) posée(s)



- 32** Robotine souhaite coller 65 timbres dans son album.  
Elle colle 5 timbres par page.  
**Combien de pages Robotine va-t-elle compléter ?**



Ta réponse

17



Date :

**33** Tirobot a livré 35 caisses de pommes pesant chacune 10 kg.  
**Combien de kilogrammes de pommes Tirobot a-t-il livrés ?**




Ta réponse


Opération(s) posée(s)

Handwritten area for the answer to problem 33.

Handwritten area for the operation(s) for problem 33.



**34** Le supermarché a acheté 42 caisses de tomates pesant chacune 7 kg.  
 On doit jeter 28 kg de tomates qui ont pourri.



- a** Combien pèsent les 42 caisses de tomates en tout ?
- b** Combien de kilogrammes de tomates pourront être vendus dans le supermarché ?

Tes réponses

Opération(s) posée(s)

Handwritten area for the answers and operations for problem 34, with sub-headers 'a' and 'b' on the left side.