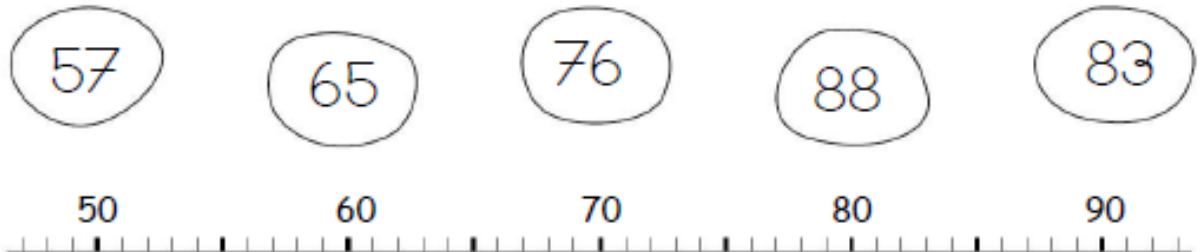


Fiche n° 5 : Les nombres de 0 à 90

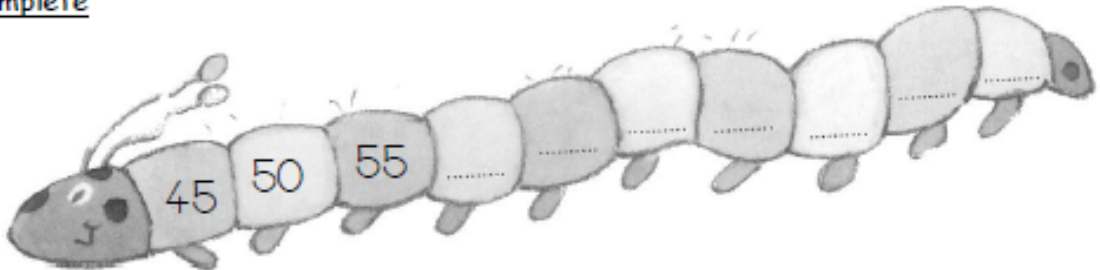
Nombres et quantités : de 0 à 90



1 Relie les nombres à leur place sur la droite graduée



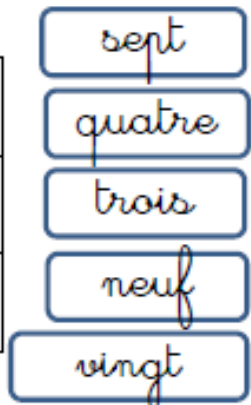
2 Complète



Nombres et quantités : de 0 à 90

1 Aide-toi des étiquettes pour écrire les nombres

89	
27	
83	



2 Ecris les nombres dans l'ordre croissant, du plus petit au plus grand:

51 - 63 - 57 - 73 - 37 - 77

□ □ □ □ □ □