















Français	Orthographe		Je prépare la dictée.
	Grammaire		Je reconnais un déterminant, un nom.
	Conjugaison		Je sais conjuguer des verbes au futur.
	Lexique		Je reconnais des mots synonymes.
	Lecture		Je comprends un texte court.
Maths	Numération		Je sais écrire en lettres des nombres < 10 000.
	Calcul		Je sais calculer des produits. (x10)
	Géométrie		Je sais reconnaître des points alignés.
	Mesure		Je sais effectuer des conversions (cm – mm)

Prénom :

Mon programme :

Bilan du plan de travail :

Programme tenu

Programme non tenu

Programme dépassé

Commentaires :


.....

.....

.....

.....

Calcul



○


□

Ecris le résultat des multiplications :

10 x 6 = 10 x 3 = 7 x 10 = 14 x 10 = 10 x 30 =

40 x 10 = 10 x 60 = 90 x 10 = 20 x 10 = 10 x 7 =

Lexique



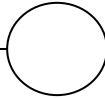

○

□

Colorie d'une même couleur les paires de synonymes (mots qui veulent dire la même chose ou presque) (12 couleurs) :

AVOIR	GAMIN	IMMEUBLE	HORRIBLE
PLEURER	BÊTISE	PLEIN	VIEUX
BRILLER	CONTENT	SANGLOTER	MARMOT
SCINTILLER	POSSÉDER	GÉANT	LOURD
REPLI	HEUREUX	PESANT	AFFREUX
ANCIEN	IMMENSE	BÂTIMENT	SOTTISE

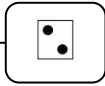
Conjugaison



Conjugué les verbes entre parenthèses au futur:

- Je (passer) la ligne d'arrivée avant toi!
- Nous (décorer) l'allée du jardin pour votre mariage.
- Youssef (emmener) son petit frère à l'école.
- Tu (enlever) tes chaussures et tu les (ranger)
- Célia et Kilian (déplacer) les étagères de la bibliothèque.
- Vous (regarder) les artistes.
- Nous (jouer) avec nos cousines.

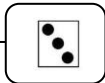
Numération



Ecris les nombres en lettres (attention aux traits d'union)

2 434	
1 700	
6 093	
3 102	
4 405	
8 012	

Mesure



Effectue les conversions suivantes :

$$53 \text{ mm} = \dots \text{ cm } \dots \text{ mm}$$

$$50 \text{ cm } 10 \text{ mm} = \dots \text{ cm}$$

$$20 \text{ cm } 20 \text{ mm} = \dots \text{ cm}$$

$$63 \text{ cm} = \dots \text{ cm } \dots \text{ mm}$$

$$103 \text{ mm} = \dots \text{ cm } \dots \text{ mm}$$

$$48 \text{ mm} = \dots \text{ cm } \dots \text{ mm}$$

Lecture



Lis le texte puis répond à la question en faisant une phrase :

Une fois dans le bâtiment, Lucien fut assailli par les odeurs bien particulières de ce lieu. Il croisa des hommes et des femmes en blouses blanches. « Chambre 41, s'il vous plaît » demanda-t-il timidement.

Où est Lucien?.....

Le coin du chercheur




Une planche de 120 cm a été coupée en 3 morceaux. Le premier mesure 45 cm ; le deuxième 350 mm.

Quelle est la longueur du troisième morceau?.....

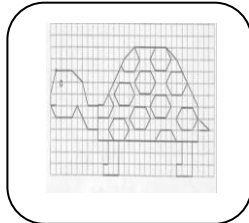
Détente



Quand tu as tout terminé :



ou



ou

